

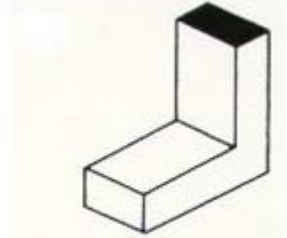
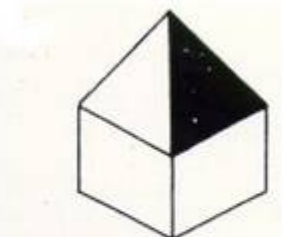
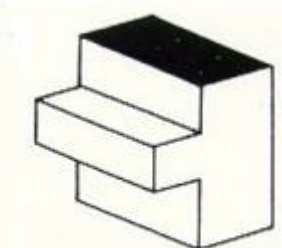
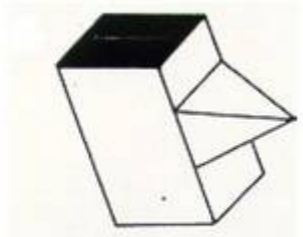

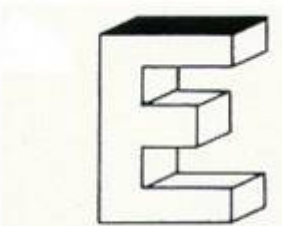

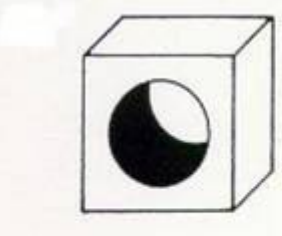
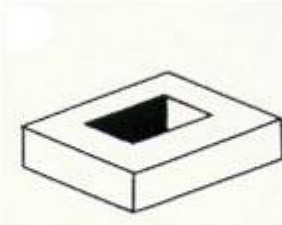



# RÄUMLICHE VORSTELLUNG

Wie viele Flächen hat der jeweils abgebildete Körper? Natürlich musst du auch die Flächen mitzählen, die am Bild nicht zu sehen sind

 <p>1. _____ Flächen</p>	 <p>2. _____ Flächen</p>	 <p>3. _____ Flächen</p>
 <p>4. _____ Flächen</p>	 <p>5. _____ Flächen</p>	 <p>6. _____ Flächen</p>
 <p>7. _____ Flächen</p>	 <p>8. _____ Flächen</p>	 <p>9. _____ Flächen</p>
 <p>10. _____ Flächen</p>	 <p>11. _____ Flächen</p>	 <p>12. _____ Flächen</p>